



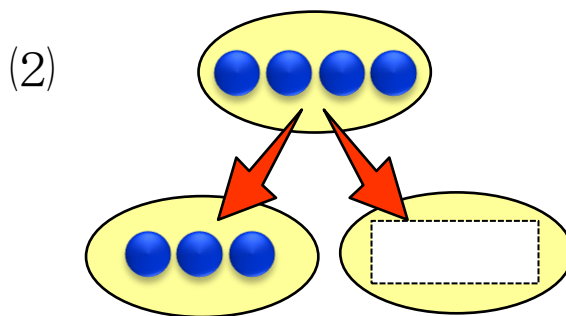
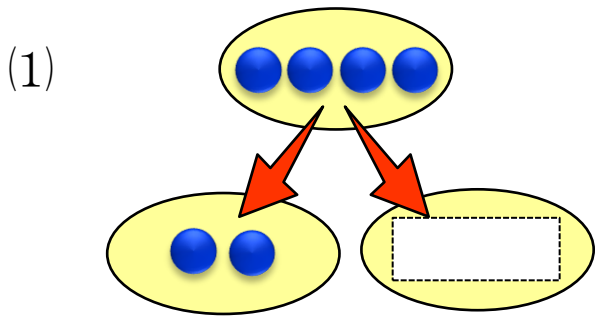
1 おなじ かずの ものを ——で おすびましょう。 (3点×5)

いち	に	さん	し	ご
!	2	3	4	5
●	●	●	●	●
●	●	●	●	●
●	●	●	●	●
●	●	●	●	●

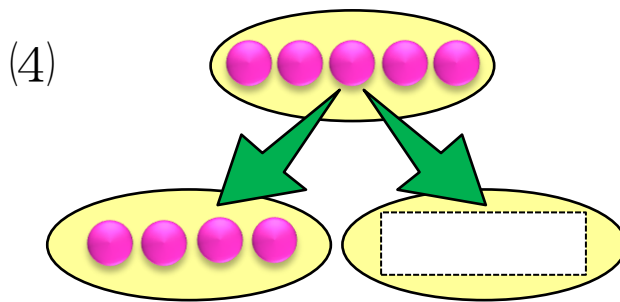
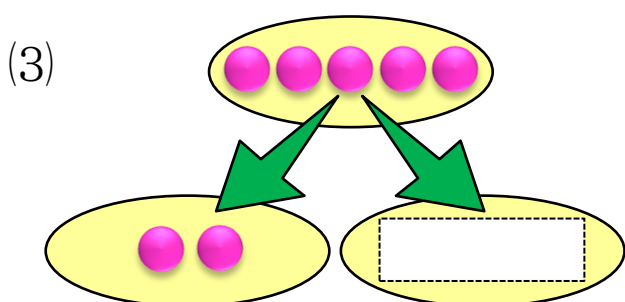
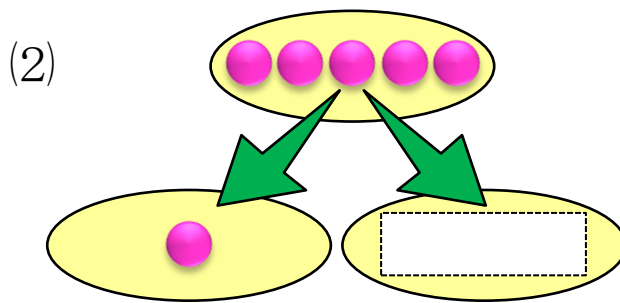
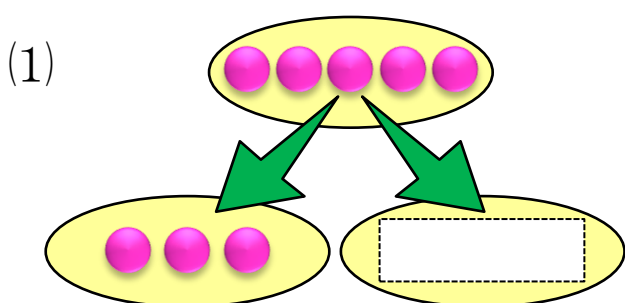
2 すうじの れんしゅうを しましょう。 (3点×5)

3 □ に あう かずを かきましょう。 (4点×5)

4 4は いくつと いくつですか。 に ○を かきましょう。 (5点×2)



5 5は いくつと いくつですか。 に ○を かきましょう。 (5点×4)



6 にはいる かずを かきましょう。 (4点×5)

(1) 4は 1と

(2) 4は 2と

(3) 5は 3と

(4) 5は 1と

(5) 5は 2と





1 おなじ かずの ものを ——で おすびましょう。

(3点×10)




•



•



•



•



•



•



•



•



•



•

2

1


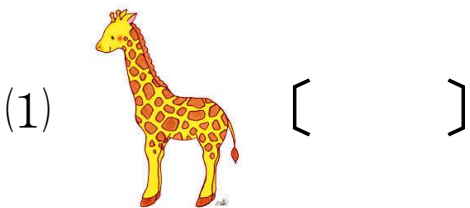
3

4

5

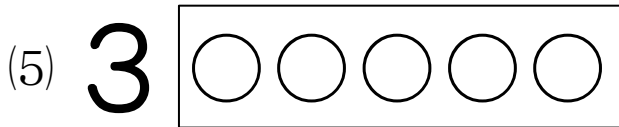
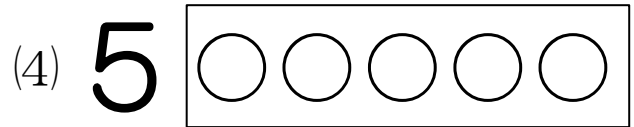
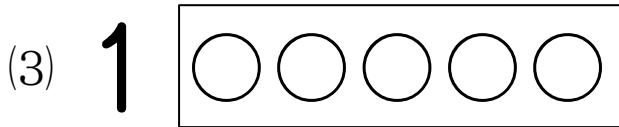
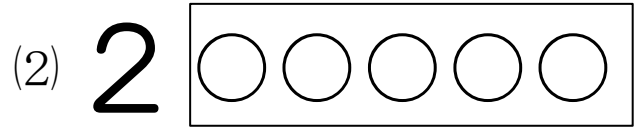
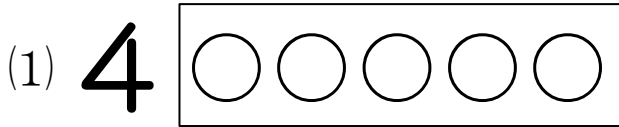
2 かずを かぞえて、[]に すうじを かきましょう。

(4点×5)



3 ○に いろを ぬりましょう。

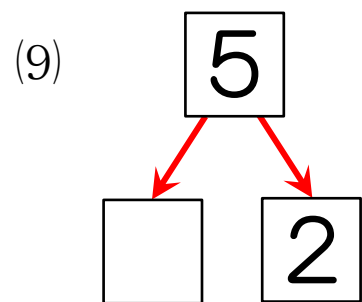
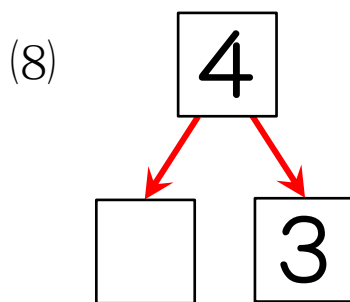
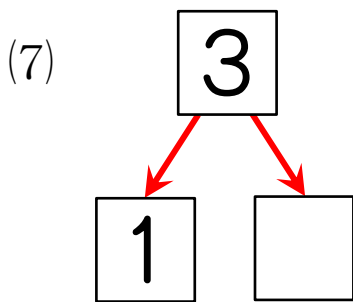
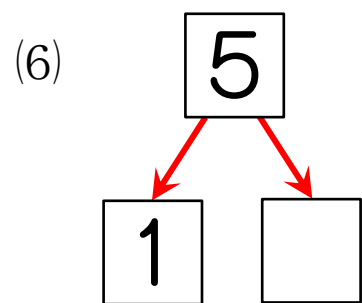
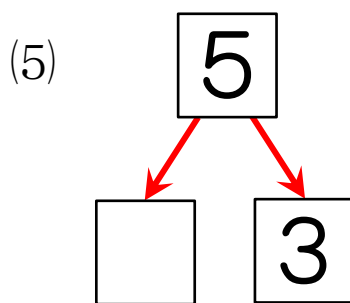
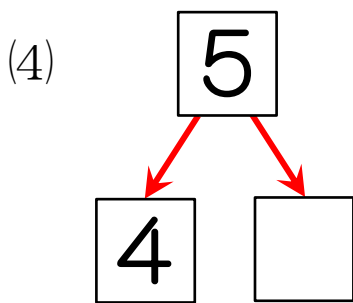
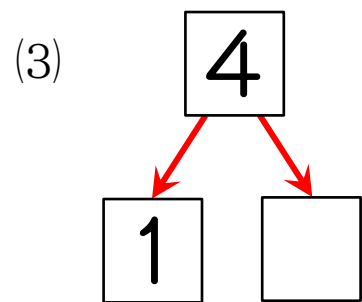
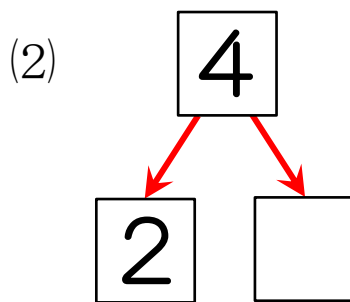
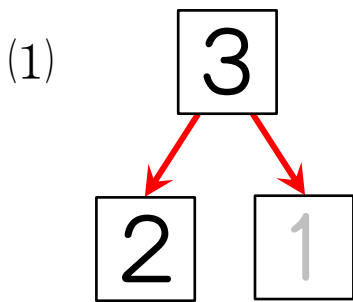
(3点×5)



4 うえの かずは、いくつと いくつに わけられますか。

に かずをかきましょう。

(3点+4点×8)





1 あいているところに、すうじとことばをかきましょう。(3点×8)

もの					
すうじ	2				
ことば	に				

2 いくつですか。[]にすうじをかきましょう。(2点×5)

(1) (2) (3) (4) (5)

[] [] [] [] []

3 あといくつで3になりますか。[]にすうじをかきましょう。(4点×2)

(1) (2)

4 あといくつで4になりますか。[]にすうじをかきましょう。(4点×2)

(1) (2)

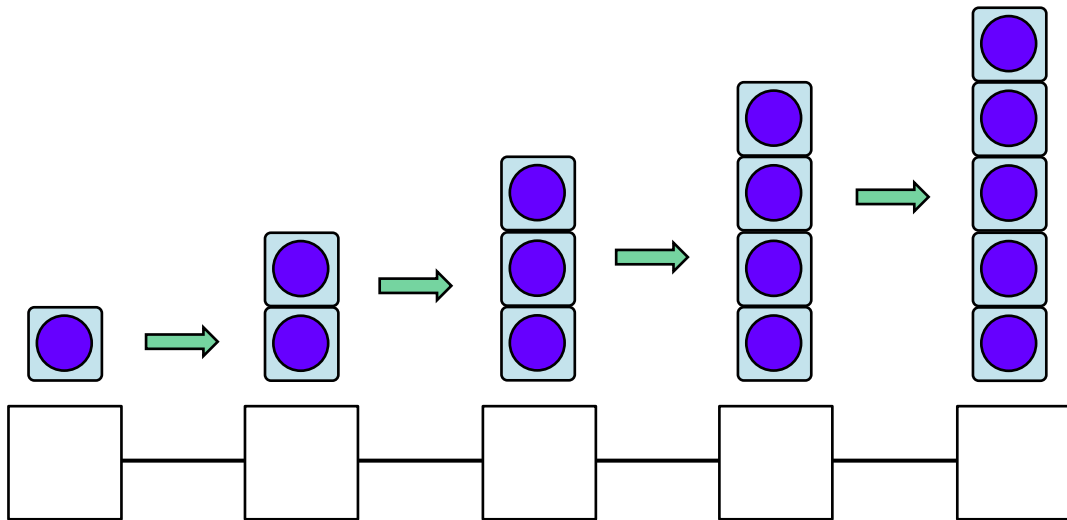
5 あと いくつで 5に なりますか。[]に すうじを かきましょう。

(4点×4)



6 □に あてはまる かずを かきましょう。

(2点×5)



7 おおきい ほうの かずを ○で かこみましょう。

(4点×3)

- (1) (4 , 2) (2) (1 , 5) (3) (2 , 3)

8 つぎの かずを すうじで かきましょう

(4点×3)

(1) 4より 1 おおきい かず []

(2) 2より 2 おおきい かず []

(3) 5より 3 ちいさい かず []