



1 なんばんめですか。えをみてこたえましょう。

(5点×5)

うしろ



(1) うさぎは まえから なんばんめですか。



まえから〔 ばんめ 〕

(2) とらは まえから なんばんめですか。



まえから〔 ばんめ 〕

(3) たぬきは うしろから なんばんめですか。



うしろから〔 ばんめ 〕

(4) ぶたは うしろから なんばんめですか。



うしろから〔 ばんめ 〕


(5) まえから 2ばんめは なにですか。

〔 〕

2 なんばんめですか。えをみてこたえましょう。

(5点×5)

うえ



(1) からすは うえから なんばんめですか。

うえから〔 ばんめ 〕

(2) ねこは うえから なんばんめですか。

うえから〔 ばんめ 〕

(3) こあらは したから なんばんめですか。

したから〔 ばんめ 〕

(4) さるは したから なんばんめですか。

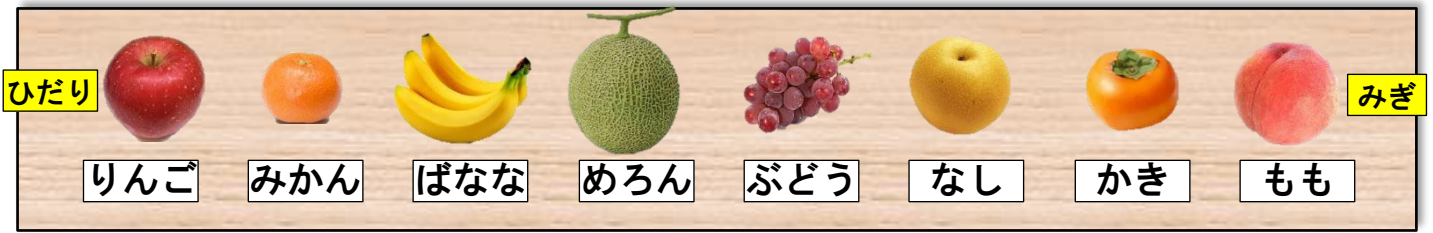
したから〔 ばんめ 〕

(5) うえから 5ばんめは なにですか。

〔 〕

3 なんばんめですか。えを みて こたえましょう。

(5点×5)



- (1) ぶどうは みぎから なんばんめですか。 みぎから〔 ばんめ 〕
- (2) みかんは みぎから なんばんめですか。 みぎから〔 ばんめ 〕
- (3) ぶどうは ひだりから なんばんめですか。 ひだりから〔 ばんめ 〕
- (4) ももは ひだりから なんばんめですか。 ひだりから〔 ばんめ 〕
- (5) みぎから 6ばんめは なにですか。 []

4 9にんの こどもが よこ1れつに ならんでいます。

(8点×2)



- (1) そうすけくんは、ひだりから 4ばんめです。みぎから かぞえると、
なんばんめですか。 [ばんめ]
- (2) エマ^{えま}さんは、みぎから 3ばんめです。ひだりから かぞえると、
なんばんめですか。 [ばんめ]
- 5 7にんの こどもが 1れつに ならんでいます。まえから 2ばんめの
こどもは、うしろから なんばんめですか。 (9点)

【え】

[ばんめ]



1 ことばにあうこどもを○でかこみましょう。

(6点×2)

(1) まえから 2ばんめ

まえ



うしろ

(2) うしろから 4にん

まえ



うしろ

2 ことばにあうこどもを○でかこみましょう。

(6点×2)

(1) ひだりから 3ばんめ

ひだり



みぎ

(2) ひだりから 5にん

ひだり



みぎ

3 ことばにあうえにいろをぬりましょう。

(6点×4)

(1) まえから 6ばんめ

まえ



(2) まえから 3だい

まえ




(3) うしろから 4ばんめ



(4) うしろから 5ひき



- 4 くだものの えを かいた かあとが, 2まいずつ あります。
えあわせを しましょう。 (10点×4+6点×2)



- (1) もう ひとつの りんごは, みぎから 3ばんめです。かあとに えを かき
ましょう。



- (2) みかんは ひだりから 3ばんめと, ひだりから 6ばんめです。かあとに
えを かきましょう。



- (3) めろんは みぎから 2ばんめと, いちばん ひだりです。かあとに えを
かきましょう。



- (4) のこった かあとは, さくらんぼです。かあとに えを かきましょう。

- (5) さくらんぼは, ひだりから なんばんめと, ひだりから なんばんめに
ありますか。

[ひだりから ばんめ と, ひだりから ばんめ]



1 たなに いろいろな ものが はいっています。

(10点×5)

う え



(1) ぼおるは うえから なんだんめの、ひだりから なんばんめにはいっていますか。

[うえから だんめ の、ひだりから ばんめ]

(2) ほんは うえから なんだんめの、みぎから なんばんめにはいっていますか。

[うえから だんめ の、みぎから ばんめ]

(3) とけいは したから なんだんめの、みぎから なんばんめにはいっていますか。

[したから だんめ の、みぎから ばんめ]

(4) ぬいぐるみは したから なんだんめの、みぎから なんばんめにはいっていますか。

[したから だんめ の、みぎから ばんめ]

(5) うえから 3だんめの ひだりから 5ばんめに、すきな ものを ひとつ かきましょう。

