




1 にている かたちを —で おすびましょう。

(5点×3)

(1) はこのかたち



•

•

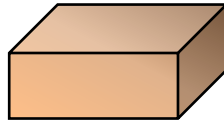


(2) つつのかたち



•

•

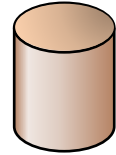


(3) ぼおるのかたち



•

•



2 したの かたちを みて、もんだいに きごうで こたえましょう。

あ



い



う



え



お



か



き



く



(1) つむ ことが できる かたちは どれですか。(10点)

()

(2) ころがる かたちは どれですか。(10点)

()

(3) はこのかたち, つつのかたち, ぼおるのかたちに わけましょう。(5点×3)

はこのかたち

つつのかたち

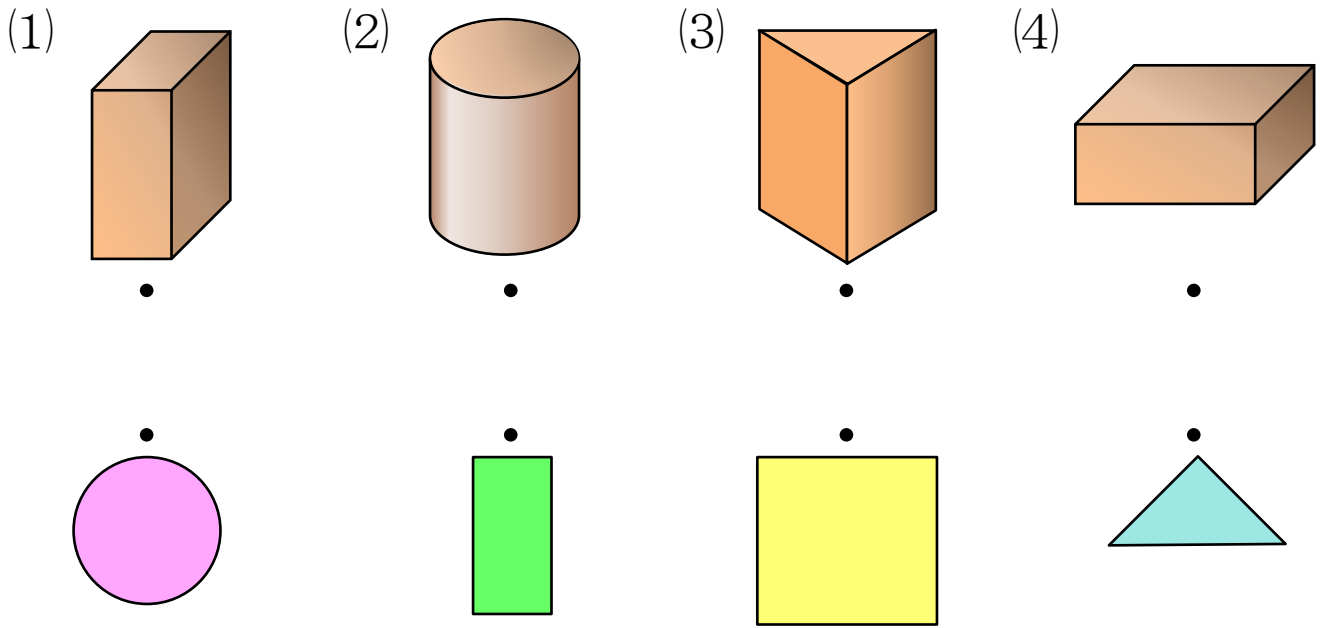
ぼおるのかたち

()

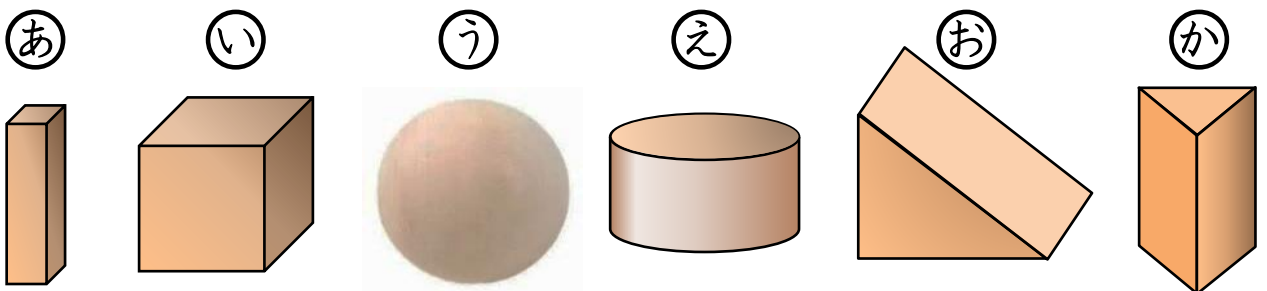
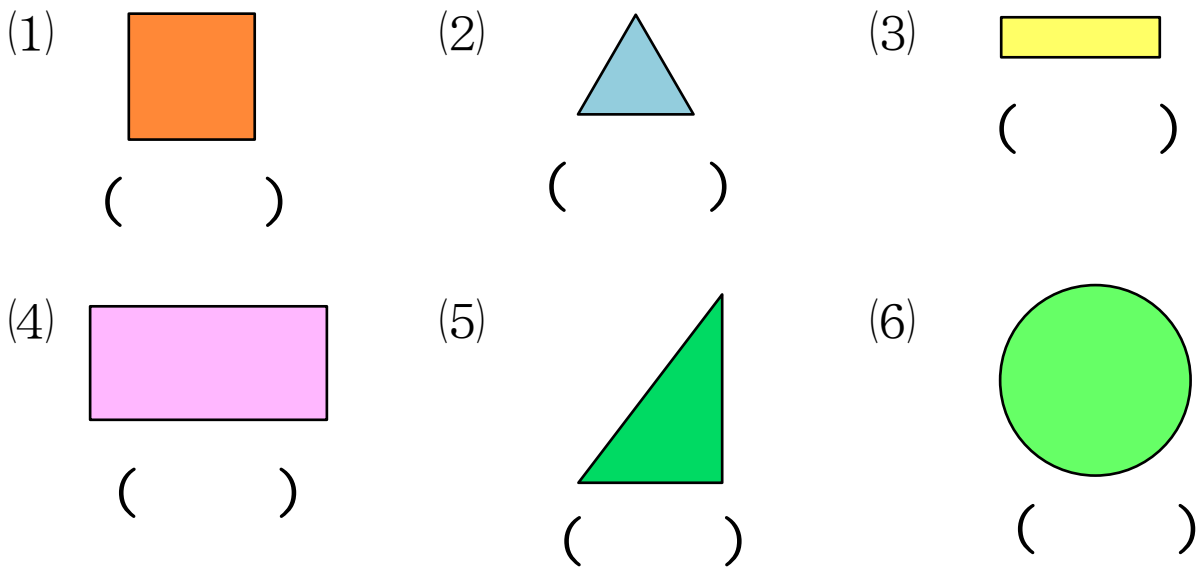
()

()

3 いろいろな つみきを, このまま かみに うつしました。
 うつした かたちは どれですか。—で おすびましょう。(5点×4)



4 いろいろな つみきを つかって, かたちを かみに うつします。
 どの つみきを つかいましたか。きごうで こたえましょう。(5点×6)





1 にている かたちを —で おすびましょう。

(4点×8)

(1) はこのかたち

(2) さいころのかたち

(3) ぼおるのかたち

(4) つつのかたち



2 したの かたちを みて、もんだいに きごうで こたえましょう。

あ




い



う



え



お



か



き



く



☆ はこのかたち, さいころのかたち, ぼおるのかたち, つつのかたちに わけましょう。

(5点×4)

はこのかたち

さいころのかたち

ぼおるのかたち

つつのかたち

()

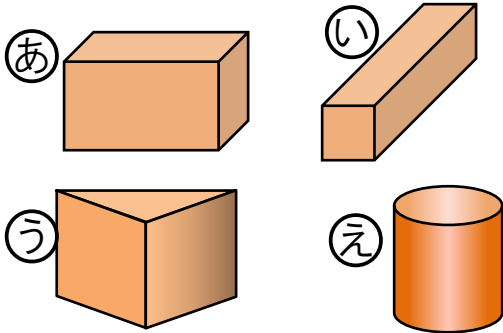
()

()

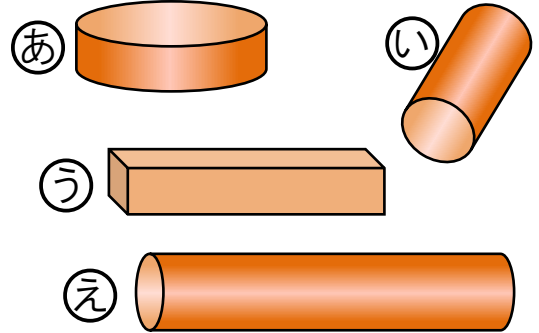
()

3 なかまに はいらない かたちは どれですか。きごうで こたえましょう。
 (4点×2)

(1) ()



(2) ()



4 つみきを つかって、かたちを かきました。つかった つみきを したから さがして、()に きごうを かきましょう。
 (10点×4)

