



1 あわせると いくつに なりますか。□に かずを かきましょう。(10点×4)

(1)

あわせて □ ひき

(2)

みんなで □ にん

(3)


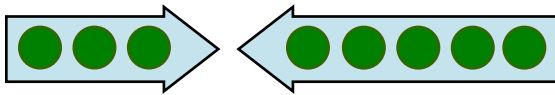
あわせて □ ほん

(4)

ぜんぶで □ さつ

2 あわせると いくつに なりますか。しきと こたえを かきましょう。(15点×4)

(1) あわせて なんこですか。



(しき)  $3 + 5 = 8$   
 「3 たす 5 は 8」  
 こたえ (  )



**3 + 5** のような けいさんを **たしざん**と いいます。

(2) あわせて なんぼんですか。



4ほん



4ほん

(しき)

こたえ (  )

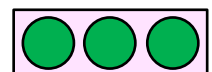
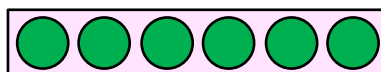
(3) みんなで なんにんですか。



(しき)

こたえ (  )

(4) ぜんぶで なんこですか。



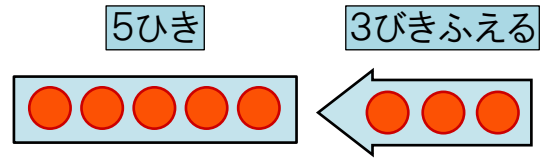
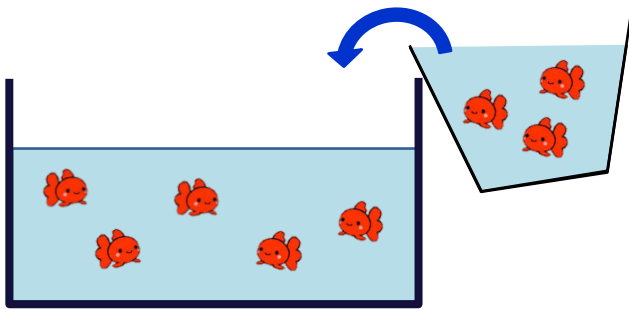
(しき)

こたえ (  )



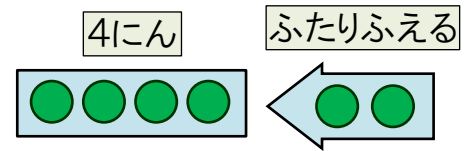

1 ふえると いくつに なりますか。□に かずを かきましょう。(10点×4)

(1)



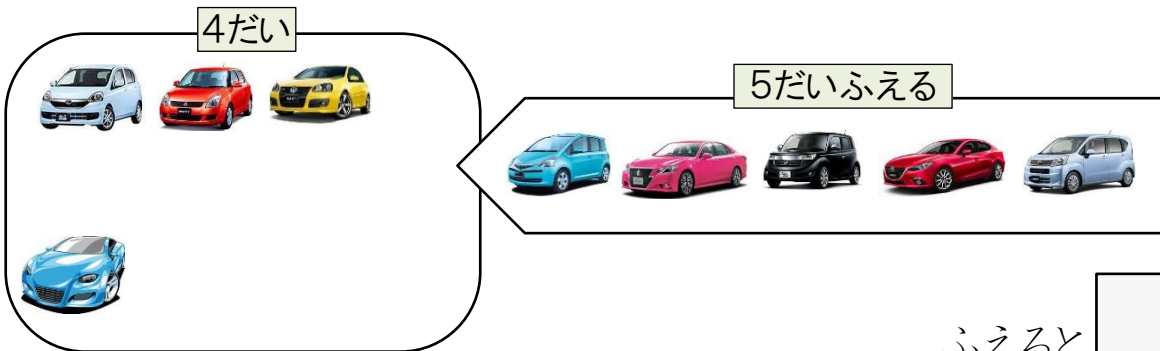
ふえると □ びき

(2)



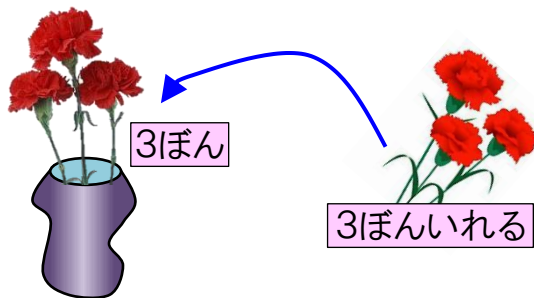
ふえると □ にん

(3)



ふえると □ だい

(4)



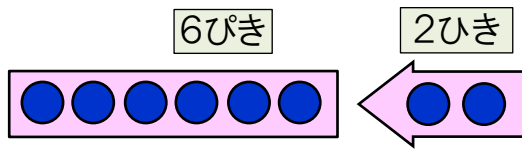
3ぼん

3ぼんいれる

ふえると □ ぼん

**2** ふえると いくつに なりますか。しきと こたえを かきましょう。 (15点×4)

(1) 2ひき ふえると, なんびきに なりますか。



(しき)

こたえ (                      )

(2) 5にん くと, なんにんに なりますか。

(しき)



こたえ (                      )

(3) 8こ もらうと, なんこに なりますか。

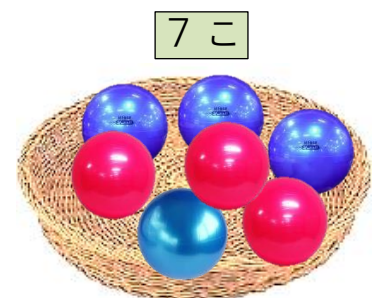
(しき)



こたえ (                      )

(4) 3こ いれると, なんこに なりますか。

(しき)



こたえ (                      )



1 おはなしを しきに しましょう。

(10点×2)

(1) おとこのこが 3にんと, おんなのこが 4にん  
あつまりました。みんなで 7にんに なりました。



(しき)

$$\boxed{\phantom{000}} = \boxed{\phantom{000}}$$

(2) すずめが 6わ います。あとから 3わ とんで  
きました。ぜんぶで 9わに なりました。




(しき)

$$\boxed{\phantom{000}} = \boxed{\phantom{000}}$$

2 あかい きんぎょが 5ひきと, くろい きんぎょが 3ひき います。  
きんぎょは ぜんぶで なんびき いますか。

(15点)

(しき)



こたえ( )

3 かびんにはなが 4ほん あります。6ほん いれると なんほんに  
なりますか。

(15点)

(しき)

こたえ( )

4 たしざんを しましょう。

(2点×25)

①  $7 + 1$

②  $2 + 3$

③  $4 + 5$

④  $2 + 6$

⑤  $1 + 1$

⑥  $5 + 2$

⑦  $5 + 5$

⑧  $2 + 8$

⑨  $4 + 1$

⑩  $1 + 3$

⑪  $3 + 2$

⑫  $2 + 4$

⑬  $1 + 5$

⑭  $8 + 1$

⑮  $4 + 4$

⑯  $2 + 7$

⑰  $2 + 2$

⑱  $3 + 6$

⑲  $6 + 4$

⑳  $1 + 8$

㉑  $5 + 4$

㉒  $7 + 2$

㉓  $4 + 3$

㉔  $3 + 3$

㉕  $3 + 7$



①  に あてはまる かずを 入れて、つぎの しきに なる おはなしに  
 しましょう。 (10点×3)

①  $3 + 5 = 8$

おんなのこが  にん, おとこのこが  にん います。

こどもは ぜんぶで  にんいます。

②  $4 + 3 = 7$

こどもが  にん あそんでいます。そこに  にん きました。

こどもは みんなで  にんに なりました。

③  $2 + 7 = 9$

さかなを  ひき つかまえました。また  ひき つかまえ

ました。つかまえた さかなは ぜんぶで  ひきに なりました。

②  $2 + 4 = 6$  の しきに なる おはなしを つくりましょう。 (20点)

---



---



---



---



---



---

**3** たしざんを しましょう。

(2点×25)

①  $1 + 2$

②  $6 + 1$

③  $2 + 5$

④  $6 + 3$

⑤  $2 + 6$

⑥  $1 + 9$

⑦  $2 + 8$

⑧  $1 + 4$

⑨  $8 + 1$

⑩  $2 + 1$

⑪  $5 + 5$

⑫  $4 + 2$

⑬  $4 + 5$

⑭  $3 + 1$

⑮  $6 + 4$

⑯  $1 + 6$

⑰  $9 + 1$

⑱  $7 + 3$

⑲  $5 + 1$

⑳  $6 + 2$

㉑  $1 + 7$

㉒  $8 + 2$

㉓  $3 + 7$

㉔  $5 + 2$

㉕  $7 + 2$