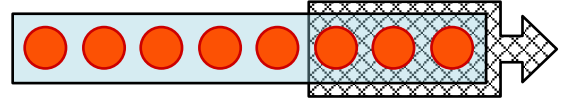





1 のこりは いくつに なりますか。□に かずを かきましょう。 (10点×4)

(1) 3びき うつしました。




のこりは □ ひき

(2)



3にん かえると のこりは □ にん

(3)



4わ とんでいくと のこりは □ わ

(4)



2こ たべると のこりは □ こ

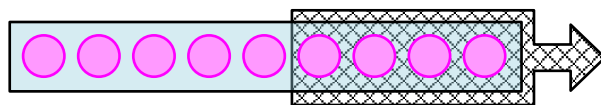
2 えをみて、しきとこたえをかきましょう。

(15点×4)


(1) 4こたべると、のこりはなんこになりますか。



9こ



(しき)  $9 - 4 = 5$   
「9 ひく 4 は 5」  
こたえ (  )



9-4 のような けいさんを ひきざんと いいます。

(2) 5ひきにげると、のこりはなんびきになりますか。




7ひき

(しき)

こたえ (  )

(3) 4まいつかうと、なんまいのこりですか。



8まい

(しき)

こたえ (  )

(4) 2だいでていくと、のこりはなんだいに なりますか。



(しき)



9だい

こたえ (  )

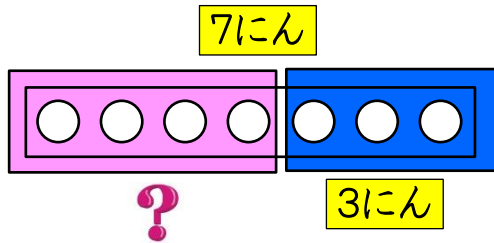


1 もう いっぽうは いくつですか。しきと こたえを かきましょう。

(1) こどもが 7にん います。おとこのこは 3にんです。

(16点)

おんなのこは なんにん ですか。(16点)




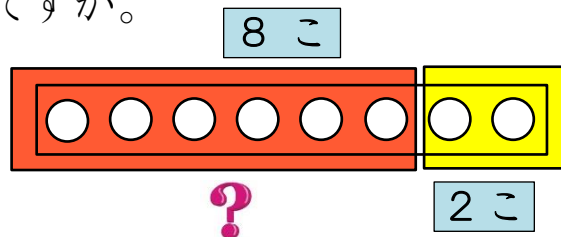
(しき)

こたえ ( )

(2) あかと きいろの たまが, あわせて 8こ あります。きいろは 2こです。

あかは なんこですか。

(17点)




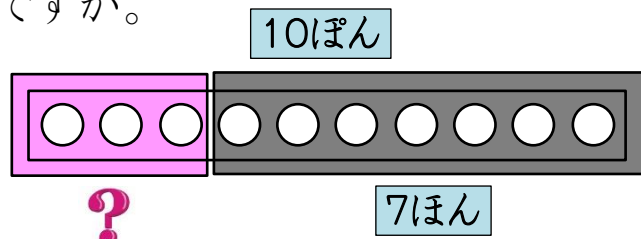
(しき)

こたえ ( )

(3) くじが 10ぽん あります。はずれは 7ほんです。

(17点)

あたりは なんぽん ですか。



(しき)

こたえ ( )

**2** ひきざんを しましょう。

(2点×25)

①  $3 - 1$

②  $7 - 2$

③  $5 - 2$

④  $6 - 2$

⑤  $4 - 1$

⑥  $6 - 5$

⑦  $6 - 1$

⑧  $8 - 7$

⑨  $10 - 5$

⑩  $5 - 4$

⑪  $3 - 2$

⑫  $9 - 3$

⑬  $9 - 1$

⑭  $10 - 4$

⑮  $5 - 3$

⑯  $4 - 3$

⑰  $8 - 2$

⑱  $9 - 6$

⑲  $8 - 6$

⑳  $7 - 4$

㉑  $10 - 8$

㉒  $8 - 3$

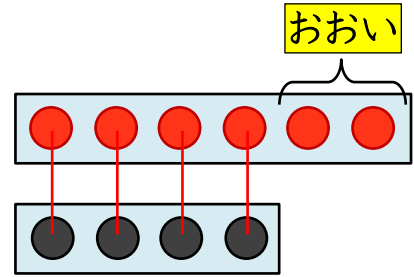
㉓  $10 - 2$

㉔  $7 - 6$

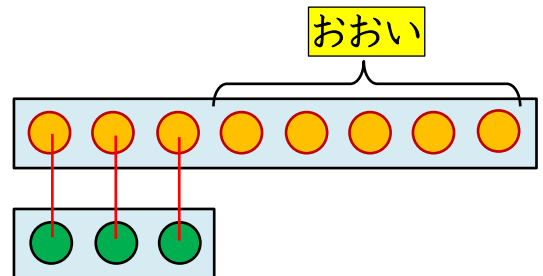
㉕  $9 - 5$




1 どちらが どれだけ おおいですか。□に かずを かきましょう。(10点×4)




が □ ひき おおい



が □ だい おおい



が □ こ おおい





が □ ぼん おおい

2 えをみて、しきとこたえをかきましょう。

(15点×4)


(1) ねこのほうが、なんびき おおい ですか。



(しき)

こたえ ( )


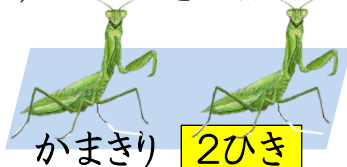
(2) ぱんのほうが、なんこ おおい ですか。



(しき)

こたえ ( )

(3) どちらが、なんびき おおい ですか。



(しき)

こたえ (                      が                      びき おおい )

(4) どちらの ぼおるが、なんこ おおい ですか。



(しき)

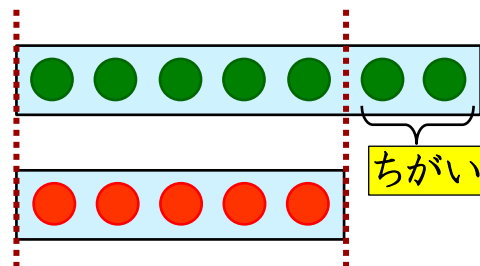
こたえ (                      ぼおるが                      こ おおい )



1 ちがいは いくつですか。えをみて、しきと こたえをかきましょう。(10点×2)

(1)  **7わ**


 **5わ**




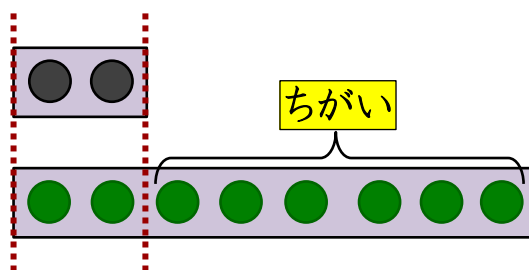
(しき)

こたえ (                      )

(2) **2ひき**



**8ひき**

(しき)

こたえ (                      )

2 おとこのこが 9にんと、おんなのこが 6にん います。

ちがいは なんにんですか。

(15点)

(しき)

こたえ (                      )

3 くるまが 3だいと、じてんしゃが 10だい とめてあります。

ちがいは なんだいですか。

(15点)

(しき)

こたえ (                      )

4 ひきざんを しましょう。

(2点×25)

①  $9 - 1$

②  $10 - 5$

③  $7 - 1$

④  $8 - 6$

⑤  $6 - 1$

⑥  $10 - 9$

⑦  $10 - 4$

⑧  $5 - 3$

⑨  $9 - 5$

⑩  $9 - 3$

⑪  $7 - 2$

⑫  $10 - 2$

⑬  $10 - 8$

⑭  $9 - 7$

⑮  $7 - 6$

⑯  $9 - 2$

⑰  $6 - 2$

⑱  $8 - 1$

⑲  $7 - 4$

⑳  $10 - 1$

㉑  $6 - 3$

㉒  $9 - 8$

㉓  $8 - 7$

㉔  $10 - 7$

㉕  $8 - 4$





①  にあてはまる かずをいれて、つぎのしきになる おはなしにしましょう。  
(10点×5)

①  $8 - 5 = 3$

こどもが  にん あそんでいます。

にん かえると、 にんになります。

②  $10 - 4 = 6$

あかと くろの えんぴつが、あわせて  ぽん あります。

あかい えんぴつが  ぽんのとき、くろい えんぴつは  ぽんです。

③  $9 - 7 = 2$

すずめが  わと、はとが  わ います。

すずめは はとよりも  わ おおく います。

④  $7 - 3 = 4$

ねこが  ひきと、いぬが  びき います。

ちがいは  ひきです。

⑤  $5 - 4 = 1$

めろんが  こ あります。すいかが  こ あります。

すいかは めろんよりも  こ おおく あります。

**2** ひきざんを しましょう。

(2点×25)

①  $4 - 1$

②  $5 - 3$

③  $10 - 9$

④  $7 - 2$

⑤  $10 - 2$

⑥  $6 - 2$

⑦  $9 - 8$

⑧  $4 - 2$

⑨  $10 - 8$

⑩  $8 - 3$

⑪  $9 - 1$

⑫  $7 - 5$

⑬  $5 - 1$

⑭  $6 - 3$

⑮  $9 - 3$

⑯  $4 - 3$

⑰  $10 - 5$

⑱  $5 - 2$

⑲  $10 - 6$

⑳  $9 - 4$

㉑  $8 - 4$

㉒  $6 - 4$

㉓  $10 - 7$

㉔  $7 - 3$

㉕  $8 - 6$