










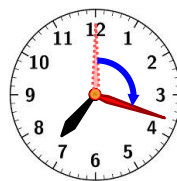


1 下の ^え絵を見て、もんだいに こたえましょう


<p>おきる</p> 	<p>かお 顔をあらう</p> 	<p>ちょうしょく た 朝食を食べる</p> 	<p>いえ 家を出る</p> 	<p>学校につく</p> 
				
()	()	()	()	()

(1) 上の ^{とけい}時計の ^じ時こくをかきましょう。 (2点×5)



(2) おきてから かおを あらうまでの 時間は 何分ですか。(10点)
^{なが}長い はりは どれだけ うごきましたか。

	→		()
---	---	---	----------------


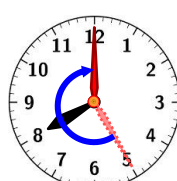
長い はりが
1目もり うごく
時間が 1^{ぶん}分です。



(3) 家を出てから 学校に つくまでの 時間は 何分ですか。 (10点)

	→		()
---	---	---	----------------

(4) 朝食を 食べてから 家を出るまでの 時間は 何分ですか。 (10点)

	→		()
---	---	---	----------------

(5) 顔を あらってから 家を出るまでの 時間は 何分ですか。 (10点)

()

2 下の絵を見て、もんだいに 答えましょう

おきる ちようしょく た 学校につく いえ テレビを見る

() () () () ()

(1) 上の時計の時こくをかきましょう。 (2点×5)

(2) おきてから朝食を食べるまでの時間は 何時間ですか。 (5点×2)
また、それは 何分ですか。

長い はりが
ひとまわりする
時間は 1時間です。

(時間)
(分)

1時間 = 60分

(3) 朝食を食べてから学校につくまでの時間は 何時間何分ですか。(10点)

(時間 分)

(4) 家にかえってからテレビを見るまでの時間は 何分ですか。(10点)

(時間 分)

(5) テレビを 1時間 見ました。テレビを見終わった時こくを 答えましょう。(10点)

()



- 1 8時の 1時間前, 30分前, 30分あと, 1時間あとの 時ごとを 答えましょう。
(4点×4)

1時間前



()

30分前



()

いま8時です



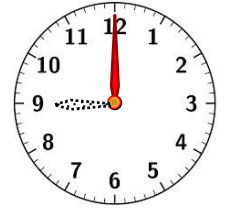
()

30分あと



()

1時間あと



- 2 いま 6時35分です。つぎの 時ごとを いいましょう。
(4点×4)

(1) 1時間あと

()

(2) 2時間あと

()

(3) 1時間前

()

(4) 2時間前

()



- 3 いま 3時です。つぎの 時ごとを いいましょう。
(4点×4)

(1) 1時間あと

()

(2) 1時間前

()

(3) 30分あと

()

(4) 30分前

()



- 4 いま 9時25分です。つぎの 時ごとを いいましょう。
(4点×4)

(1) 30分あと

()

(2) 1時間あと

()

(3) 30分前

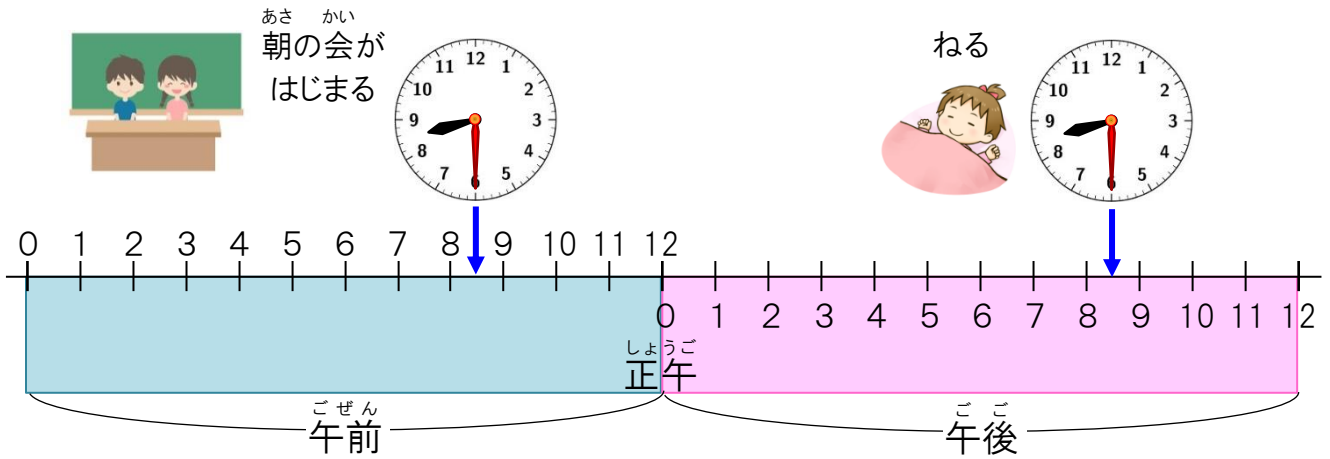
()

(4) 1時間前

()



1 下の ^え絵を見て、もんだいに こたえましょう。 (6点×5)



- (1) 朝の会が はじまる ^じ時こくと、ねる 時こくを かきましょう。
 はじまる時こく(午前 時 分) ねる時こく(午後 時 分)
- (2) 午前は 何時間, 午後は 何時間 ありますか。
 午前(時間) 午後(時間)
- (3) 1日は 何時間 ありますか。
 1日(時間)
- 1日 = 24時間

2 つぎの 時間は どれだけですか。 (7点×2)

(1) ^{いえ}家をでる 家に帰る

(時間)

(2) ^{いえ}家をでる 家に帰る

(時間)

3 に あてはまる 数を かきましょう。 (4点×6)

(1) 1時間 = 分

(2) 1時間10分 = 分

(3) 60分 = 時間

(4) 80分 = 時間 分

(5) 1時間5分 = 分

(6) 95分 = 時間 分

4 に あてはまる 数を かきましょう。 (4点×3)

(1) 1日 = 時間

(2) 午前は 時間

(3) 午後は 時間

5 つぎの 時こくを, 午前, 午後を つかって 答えましょう。 (5点×4)

(1) 午前6時から 40分 あとの 時こく

()

(2) 午後4時より 30分前の 時こく

()

(3) 午前10時の 4時間あとの時こく

()

(4) 午後3時の 6時間前の時こく

()