




1 <sup>つき</sup> 次の時こくをかきましょう。

(6点×3)

(1)




(2)




(3)




2 次の時間はどれだけですか。

(6点×2)

(1) 午前10時

午後5時

(2) 午前6時

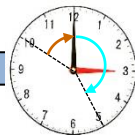
午後2時






3 あきら君は、2時50分に学校を出て、3時25分に家に着きました。かかった時間はどれだけですか。

(10点)


 分

2時

2:50

3時

3:25

4時

10分 25分

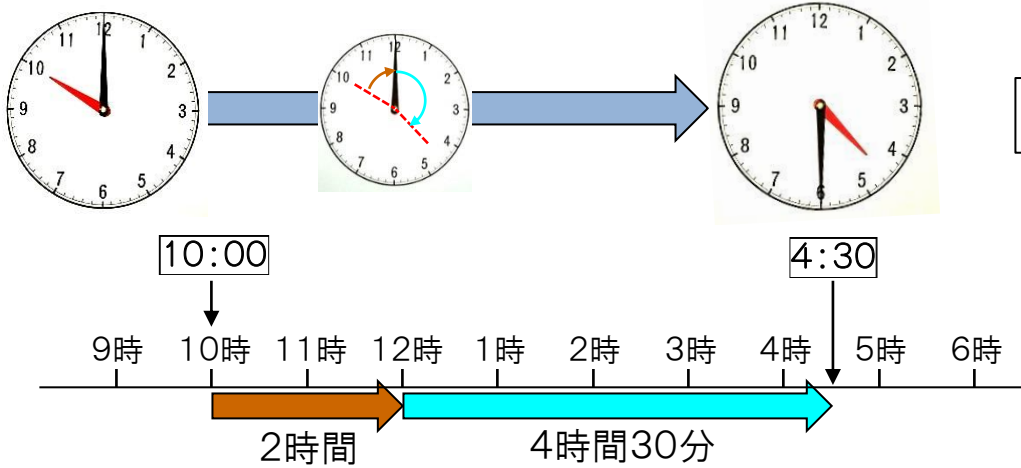


4 さちこさんたちは、9時45分に学校を出て、10時35分に神社に着きました。かかった時間はどれだけですか。

(10点)

 分

5 すいぞくかん にゅうじょう 水族館の入場時間は、午前10時から午後4時30分までです。入場時間はどれだけですか。 (10点)



時間 分



6 あきら君は、午前8時から午後3時45分まで学校にいました。学校にいた時間はどれだけですか。 (10点)

時間 分

7 つぎ 次の時間を答えましょう。 (10点×3)

(1) 午前7時25分から午前8時20分まで

答え〔 時間 分 〕

(2) 午前8時30分から午後2時まで

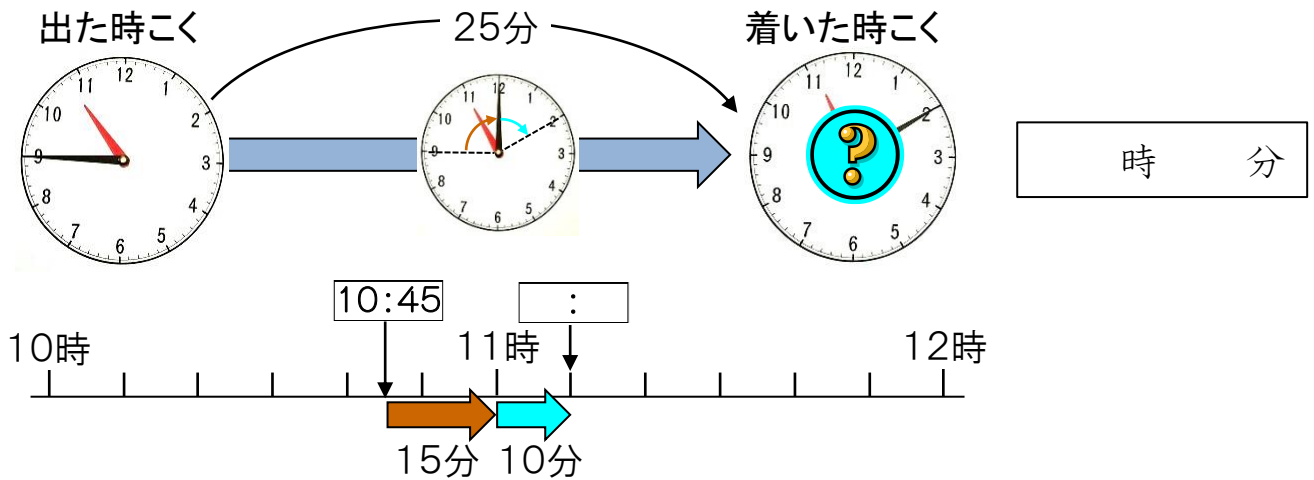
答え〔 時間 分 〕

(3) 午後5時30分から午前1時まで

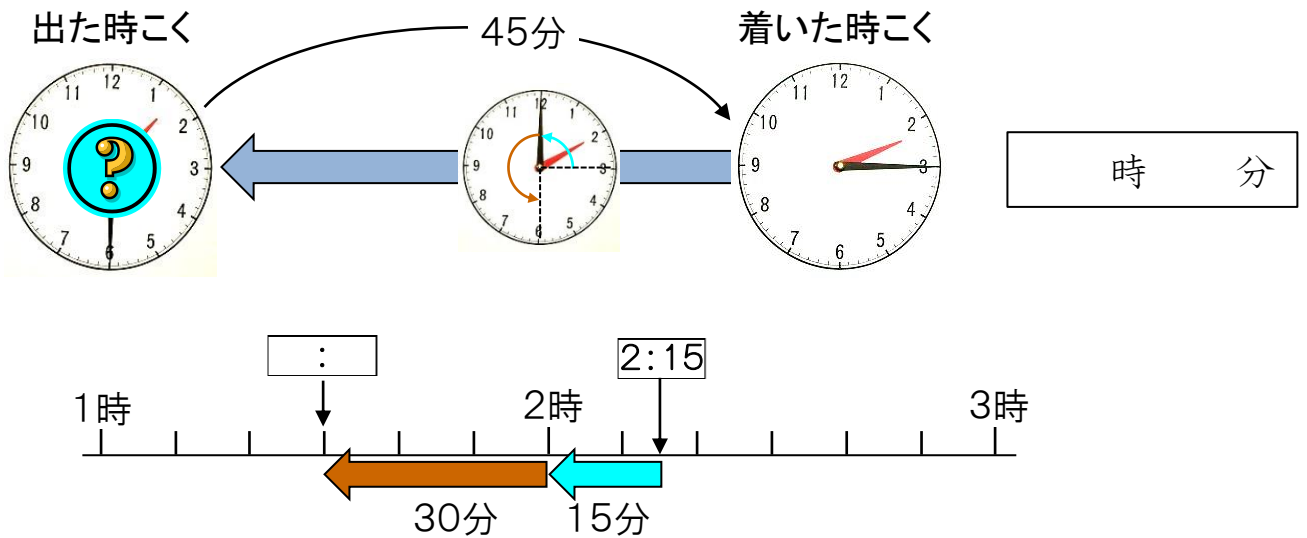
答え〔 時間 分 〕



- 1 さちこさんたちは、10時45分に神社じんじゃを出て、25分歩いて植物園しょくぶつえんに着きました。植物園に着いた時ごとは何時何分ですか。(15点)



- 2 植物園を出て45分歩き、2時15分に学校に着きました。植物園を出た時ごとは何時何分ですか。(15点)



- 3 あきら君は、家から駅に行くのに20分かかります。5時10分に駅に着くには、家を何時何分に出るとよいですか。(10点)



時 分

4 さくやさんたちは、登山口を8時50分に出て、55分歩いて山ちょうに着きました。  
山ちょうについた時こくは 何時何分ですか。 (15点)



時 分



5 しんじ君は、家を出て40分歩き、9時10分に嵐山に着きました。家を出た  
時こくは 何時何分ですか。 (15点)



時 分



6 つぎの時こくを答えましょう。 (10点×3)

(1) 5時35分の35分あとの時こくは何時何分ですか。

答え〔 時 分 〕

(2) 11時20分の50分前の時こくは何時何分ですか。

答え〔 時 分 〕

(3) 3時15分の40分前の時こくは何時何分ですか。

答え〔 時 分 〕



1分より短い時間のたんいびょうに秒みじかがあります。

1分=60秒です。



いちばん速く動くはりが  
ひとまわりすると、長い  
はりは1目もり動きます。



1  にあてはまる数をかきましょう。

(5点×6)

① 1分 =  秒

② 2分 =  秒

③ 1分20秒 =  秒

④ 1分40秒 =  秒

⑤ 70秒 =  分  秒

⑥ 95秒 =  分  秒

2 教室からしょくいん室まで歩いて75秒かかりました。これは何分何秒ですか。

(10点)

分  秒



3 牛にゅうを電子レンジで1分30秒あたためました。何秒間あたためましたか。

(10点)

秒間



**4** つぎ 次の時間を答えましょう。

(10点×2)

(1) 午後6時35分から午後7時15分まで

答え〔            分 〕

(2) 午前7時30分から午後4時まで

答え〔      時間      分 〕

**5** 次の時こくを答えましょう。

(10点×2)

(1) 9時40分の45分あとの時こくは何時何分ですか。

答え〔      時      分 〕

(2) 10時15分の40分前の時こくは何時何分ですか。

答え〔      時      分 〕

**6** だいき君は、かいだんを1階から6階までのぼるのに83秒かかりました。  
これは何分何秒ですか。

(10点)

分      秒

